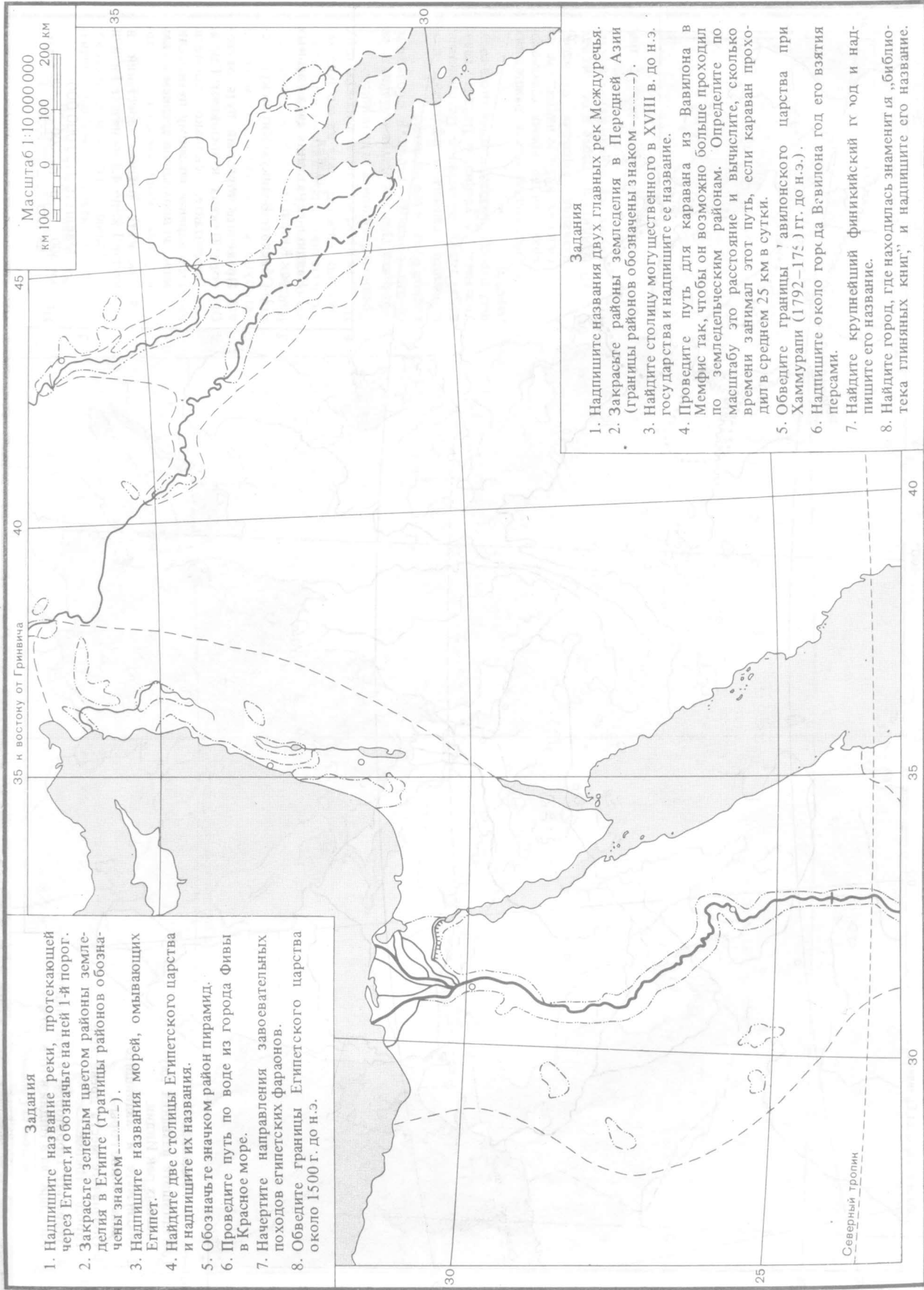




# ДРЕВНИЙ ВОСТОК. ЕГИПЕТ И МЕЖДУРЕЧЬЕ (до VI в. до н.э.)



### Задания

1. Надпишите название реки, протекающей через Египет, и обозначьте на ней I-й порог.
2. Закрасьте зеленым цветом районы земледелия в Египте (границы районов обозначены знаком ).
3. Надпишите названия морей, омывающих Египет.
4. Найдите две столицы Египетского царства и надпишите их названия.
5. Обозначьте значком район пирамид.
6. Проведите путь по воде из города Фивы в Красное море.
7. Начертите направления завоевательных походов египетских фараонов.
8. Обведите границы Египетского царства около 1500 г. до н.э.

### Задания

1. Надпишите названия двух главных рек Междуречья.
2. Закрасьте районы земледелия в Передней Азии (границы районов обозначены знаком ).
3. Найдите столицу могущественного в XVIII в. до н.э. государства и надпишите ее название.
4. Проведите путь для каравана из Вавилона в по земледельческому району. Определите по масштабу это расстояние и вычислите, сколько времени занимал этот путь, если караван проходил в среднем 25 км в сутки.
5. Обведите границы Авилонского царства при Хаммурапи (1792—1750 гг. до н.э.).
6. Надпишите около гор да Вавилона год его взятия персами.
7. Найдите крупнейший финикийский город и надпишите его название.
8. Найдите город, где находилась знаменитая «Библиотека глиняных книг», и надпишите его название.

40

35

30

Северный тропик

25

30

45

40

35

Масштаб 1:10 000 000  
км 100 0 100 200 км